

**DR. BABASAHEB AMBEDKAR RESEARCH AND TRAINING
INSTITUTE, (BARTI), PUNE
TEST PAPER**

**Dr. Babasaheb Ambedkar National Research Fellowship
(BANRF)-2017**

Name of the candidate:- _____

Write your SR. No

Subject:- _____ M. Phil/ Ph. D

Research title:- _____

DOB:- / /

Native Place:- _____

Time-20 Min

No.of Questions-20

Instruction to candidates		उमेदवारांना सूचना
1	This paper contains 20 questions. Each question will carry 1/2 mark. All questions are compulsory	या प्रश्नावलीमध्ये एकूण ५० प्रश्न आहे. प्रत्येक प्रश्नास अर्धा गुण आहेत. सगळे प्रश्न सोडविणे आवश्यक आहेत.
2	Each question has four alternative responses marked (A), (B), (C) and (D). You have to write your response in the Answer sheet.	प्रत्येक प्रश्नामध्ये चार पर्यायी प्रतिसाद चिन्हांकीत केलेले आहेत. A, B, C किंवा D यापैकी योग्य उत्तर उत्तरपत्रिकेत लिहावे.
3	Rough Work is to be done at the end of this booklet.	कच्चे काम करण्यासाठी प्रश्नपत्रिकेतील शेवटचे पान वापरावे.
4	Use of any calculator or log table, etc., is prohibited.	कॅलकुलेटर तसेच लॉगटेबल यांचा वापर प्रतिबंधित आहे.
5	There is no negative marking for incorrect answers	अयोग्य उत्तरास नाकारात्मक गुण नाहीत.
6	Any change of response by scratching or overwriting, you will be render yourself to disqualification.	उत्तर पत्रिकेवर कोणत्याही प्रकारची खाडाखोड आढळून आल्यास सदर उमेदवाराची पात्रता करण्यात येईल.

ANSWER SHEET

Question No	Answer	Question No	Answer
1		15	
2		16	
3		17	
4		18	
5		19	
6		20	
7	Sign Of the Candidate	
8			
9			
10			
11			
12			
13			
14			

Total Marks Obtained

Sign of Paper Examiner

PAPER

1. The Scope of data collection depends on

- (A) The objective
- (B) Resources available
- (C) Availability of time
- (D) All the above

2. Bias in sampling arises due to

- (A) faulty process of sample selection
- (B) faulty work during data collection
- (C) faulty methods of analysis
- (D) All the above

3. In private surveys the rate of response can be

- (A) 50 %
- (B) 75 %
- (C) < 50 %
- (D) Any of these

१. माहिती गोळा करण्याची संधी कशावर अवलंबून असते.

- (A) उद्दिष्ट्ये
- (B) उपलब्ध स्रोत
- (C) उपलब्ध वेळ
- (D) वरीलपैकी सर्व

२. निवड पध्दतीमध्ये अभिनती (Bias) कशामुळे येतो

- (A) चुकीची निवड पध्दती
- (B) माहिती गोळा करताना चुकीचे काम
- (C) चुकीची विश्लेषण पध्दती
- (D) वरीलपैकी सर्व

३. खाजगी सर्वेक्षणामध्ये प्रतिसादाचा दर खालीलपैकी

- (A) ५०%
- (B) ७५ %
- (C) < ५० %
- (D) वरीलपैकी कोणताही

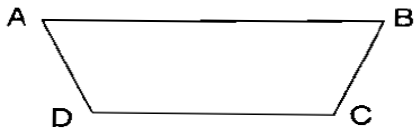
4. What was the GDP growth predicted by CSO for 2010-11?

- (A) Below 7 %
- (B) Between 8 % and 9 %
- (C) Above 10 %
- (D) None of these

5. Which Bank has the powers to write to the Central Government for suspension of business of banking company?

- (A) Reserve Bank of India
- (B) State Bank of India
- (C) NABARD
- (D) Bank of Maharashtra

6. In which way the quadrilateral is not read ?



- (A) Qud. ABCD
- (B) Qud. ADCB
- (C) Qud. ABDC
- (D) Qud. BADC

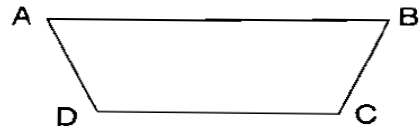
४. २०११-२०१२ मध्ये GDP वृद्धीदर CSO ने किती भाकित केला होता ?

- (A) 7 % पेक्षा कमी
- (B) 8 % आणि 9 % दरम्यान
- (C) 10 % पेक्षा जास्त
- (D) वरीलपैकी कोणताही नाही

५. बँकींग कंपनीचा व्यवसाय तहकुब करण्याविषयी केंद्र सरकारकडे अर्ज करण्याचा अधिकार कोणत्या बँकेला आहे ?

- (A) रिझर्व्ह बँक ऑफ इंडिया
- (B) स्टेट बँक ऑफ इंडिया
- (C) नाबार्ड
- (D) बँक ऑफ महाराष्ट्र

६. खालील आकृतीचे वाचन कोणत्या प्रकारे करत नाहीत ?



- (A) चौ. ABCD
- (B) चौ. ADCB
- (C) चौ. ABDC
- (D) चौ. BADC

7. Who from amongst the following revolutionaries were hanged for the murder of Jackson, the collector of Nashik?

- a. Anant Kanhere
- b. Vinayak Deshpande
- c. Krishnaji Karve
- d. Vinayak Apte

Options :

- (A) Only a
- (B) Only a and b
- (C) Only a, b and c
- (D) Only a, b, c and d

8. Which of the following schemes was started for the medical check-up of the women below poverty line ?

- (A) Asha Scheme
- (B) National Rural Health Mission
- (C) Janani Security Scheme
- (D) Self-Power Scheme

9. Which State became the fastest Indian growing state between 2006 and 2010 ?

- (A) Rajasthan
- (B) Uttar Pradesh
- (C) Bihar
- (D) Uttarakhand

७. नाशिकचे कलेक्टर जॅक्सन यांच्या खुनात खालीलपैकी कोणत्या क्रांतिकारकांना फाशी देण्यात आली ?

- अ. अनंत कान्हेरे
- ब. विनायक देशपांडे
- क. कृष्णाजी कर्वे
- ड. विनायक आपटे

पर्याय :

- (A) फक्त अ
- (B) फक्त अ आणि ब
- (C) फक्त अ, ब आणि क
- (D) फक्त अ, ब, क आणि ड

८. दारिद्र्य रेषेखालील महिलांची आरोग्य तपासणी करण्यासाठी खालीलपैकी कोणती योजना सुरु करण्यात आली ?

- (A) आशा योजना
- (B) राष्ट्रीय ग्रामीण आरोग्य मिशन
- (C) जननी सुरक्षा योजना
- (D) स्वशक्ती योजना

९. २००६ ते २०१० या कालावधीमध्ये सर्वात जलद गतीने विकास करणारे राज्य कोणते ?

- (A) राजस्थान
- (B) उत्तर प्रदेश
- (C) बिहार
- (D) उत्तरप्रदेश

10. Consider the following statement :

- a. India is democratic republic, because the head of the state is elected by the people.
- b. India is a democratic republic, because there is parliamentary supremacy

Which of the statements given above is/are correct ?

- (A) Only a
- (B) Only b
- (C) a and b
- (D) None of these

11. Which of the following is an incorrect pair ?

- (A) Television : TRP
- (B) Newspaper : RAM
- (C) Website : Hits
- (D) Film : Box Office

12. Which of the following rights are “ Soul & heart” of the Constitution according to Dr. B.R. Ambedkar.

- (A) Freedom of expression
- (B) Right of equality
- (C) Rights of the religious freedom
- (D) Right to Constitutional Remedies

१०. खालील विधाने पहा :

- अ. भारत हे लोकशाही गणराज्य आहे कारण राज्याचा सर्वोच्च प्रमुख लोकांकडून निवडला जातो.
- ब. भारत हे लोकशाही गणराज्य आहे कासण येथे संसद सर्वश्रेष्ठ आहे.

वरीलपैकी कोणते/ती विधान/ने बरोबर आहे/त ?

- (A) फक्त अ
- (B) फक्त ब
- (C) अ आणि ब
- (D) यापैकी नाही

११. पुढीलपैकी कोणती जोडी चुकीची आहे ?

- (A) दूरचित्रवाणी : टी. आर. पी.
- (B) वृत्तपत्र : रॅम
- (C) वेबसाईट : हिट्स
- (D) चित्रपट : बॉक्स ऑफिस

१२. डॉ. बाबासाहेब आंबेडकरांनी खालीलपैकी कोणत्या अधिकारांना भारतीय संविधानाचे “हृदय आणि आत्मा” असे म्हटले आहे ?

- (A) अभिव्यक्ती स्वातंत्र्य
- (B) समानतेचे अधिकार
- (C) धार्मिक स्वातंत्र्याचा अधिकार
- (D) संविधानिक उपायांचा अधिकार

13. Which out of these is a Quantitative data tool

- (A) Survey
- (B) In-depth interviews
- (C) Focus group interviews
- (D) Interview guide

14. A good hypothesis should be

- (A) Specific and reliable with most known facts
- (B) Formulated in such a way that it can be tested by data
- (C) Of limited scope and should not have global significances
- (D) All of these

15. Which of the following software is used to process and analyses quantitative data?

- (A) Quark Express
- (B) SPSS
- (C) Quant Chrome
- (D) SSQN

१३. यापैकी एक संख्यात्मक माहिती संकलन करण्याचे साधन आहे

- (A) सर्वेक्षण
- (B) सखोल मुलाखत
- (C) लक्षगट मुलाखती
- (D) मुलाखत मार्गदर्शक

१४. उत्तम गृहिकृत्य म्हणजे...

- (A) वास्तववादी स्थितीवर आधारित ठराविक आणि विश्वसनीय
- (B) अशा पध्दतीने आखणी करणे ज्याद्वारे संकलित माहितीची चाचणी केली जाऊ शकते
- (C) लक्षगट मुलाखती
- (D) मुलाखत मार्गदर्शक

१५. संख्यात्मक तथ्यांवर प्रक्रिया करण्यासाठी व विश्लेषण करण्यासाठी खालीलपैकी कोणते सॉफ्टवेअर वापरले जाते ?

- (A) क्वार्क एक्सप्रेस
- (B) एस.पी.एस.एस.
- (C) क्वांट क्रोम
- (D) एस. एस. क्यू. एन.

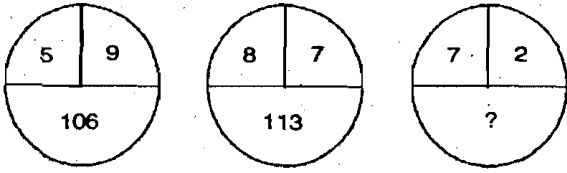
16. Which of the above is not Internet service provider?

- (A) MTNL
- (B) BSNL
- (C) RNET India
- (D) InfoTech India Limited

17. Which word does NOT Belong with the others

- (A) Leopard
- (B) Tiger
- (C) Fox
- (D) Lion

18. Which of the following marks will be replaced by a question mark?



- (A) 58
- (B) 53
- (C) 49
- (D) 45

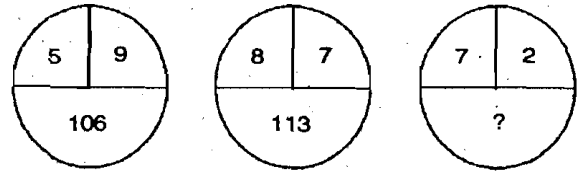
१६. खालीलपैकी इंटरनेट सर्व्हिस प्रोवायडर नाही

- (A) एम.टी.एन.एल. (MTNL)
- (B) बी.एस.एन.एल (BSNL)
- (C) आर.एन.इ. टी. इंडिया (RNET India)
- (D) इन्फोटेक इंडिया लिमिटेड

१७. खालीलपैकी कोणता प्राणी इतर गटात न बसणारा आहे

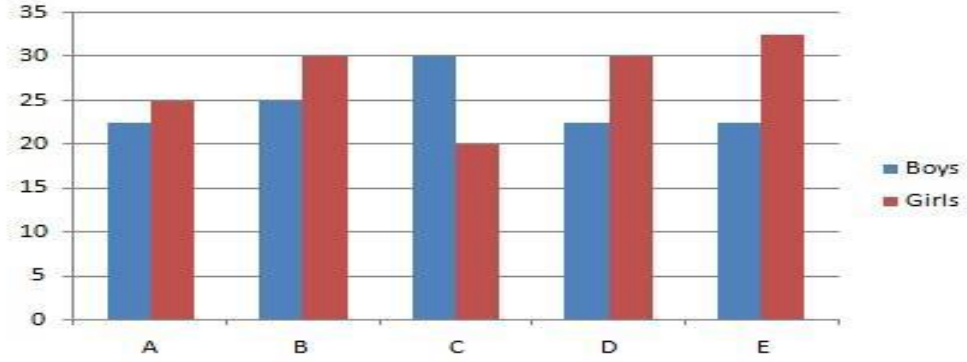
- (A) चित्ता
- (B) वाघ
- (C) कोल्हा
- (D) सिंह

१८. खालील पैकी कोणता अंक प्रश्नचिन्हाच्या जागी येईल ?



- (A) ५८
- (B) ५३
- (C) ४९
- (D) ४५

**Total Number of Boys and Girls in Various Colleges
Number in Thousands**



19. Which of the following is the average number of girls from all the colleges?

- (A) 25000
- (B) 27500
- (C) 27000
- (D) 25500

20. The Total numbers of girls from the college D and E together is how much percent of the total number of girls from the college A,B, and C together ?

- (A) 83.3 %
- (B) 75%
- (C) 70%
- (D) 88%

१९. खालीलपैकी कोणती संख्या सर्व महाविद्यालयांमधील मुलींची सरासरी आकडेवारी आहे

- (A) २५०००
- (B) २७५००
- (C) २७०००
- (D) २५५००

२०. D आणि E या दोन्ही महाविद्यालयातील मुलींची एकत्रित आकडेवारी महाविद्यालय A,B आणि C यांच्या एकत्रित आकडेवारीच्या किती टक्के आहे ?

- (A) ८३.३ %
- (B) ७५%
- (C) ७०%
- (D) ८८%

Rough Work
